



T.C. Ölçme, Seçme ve Yerleştirme Merkezi

**MİLLİ SAVUNMA ÜNİVERSİTESİ  
ASKERİ ÖĞRENCİ ADAY BELİRLEME SINAVI  
(2020-MSÜ)**

14 HAZİRAN 2020

*Bu testlerin her hakkı saklıdır. Hangi amaçla olursa olsun, testlerin tamamının veya bir kısmının Merkezimizin yazılı izni olmadan kopya edilmesi, fotoğrafının çekilmesi, herhangi bir yolla çoğaltılması, yayımlanması ya da kullanılması yasaktır. Bu yasağa uymayanlar gerekli cezai sorumluluğu ve testlerin hazırlanmasındaki mali külfeti peşinen kabullenmiş sayılır.*

## DİKKAT!

Din Kültürü ve Ahlak Bilgisi dersini yasal olarak almak zorunda olan adaylar ve İmam Hatip Okulları öğrencileri/mezunları, Sosyal Bilimler Testinin ilk 20 sorusunu cevaplamakla yükümlüdür. Bu adaylar 21-25. soruları cevaplamayacaklardır. Bu adaylar 21-25. sorularda işaretleme yapmış olsalar bile bu cevapları değerlendirmeye alınmayacaktır.

Din Kültürü ve Ahlak Bilgisi dersini yasal olarak almak zorunda olmayan veya farklı müfredat ile alan adaylar, 16-20. soruların hiçbirini cevaplamadan 21-25. soruları cevaplayacaklardır. Bu adaylar 16-20. sorularda işaretleme yapmış olsalar bile bu cevapları değerlendirmeye alınmayacaktır.

## AÇIKLAMA

1. Bu kitapçıkta toplam **125 soru** bulunmaktadır.  
Türkçe Testi: 40 soru  
Sosyal Bilimler Testi: 25 soru  
Temel Matematik Testi: 40 soru  
Fen Bilimleri Testi: 20 soru
2. Bu sınav için verilen cevaplama süresi **135 dakikadır (2 saat, 15 dakika)**.
3. **Bu sınav puanlanırken, her testteki doğru cevaplarınızın sayısından yanlış cevaplarınızın sayısının dörtte biri çıkarılacak ve kalan sayı o bölümle ilgili ham puanınız olacaktır.**
4. Kitapçığın sayfalarındaki boş yerleri müsvedde için kullanabilirsiniz.
5. Cevaplamaya, istediğiniz sorudan başlayabilirsiniz. Bir soru ile ilgili cevabınızı, cevap kâğıdında o soru için ayrılmış olan yere işaretlemeyi unutmayınız.
6. Bu kitapçıkta yer alan her sorunun sadece bir doğru cevabı vardır. Cevap kâğıdında bir soru için birden çok cevap yeri işaretlenmişse o soru yanlış cevaplanmış sayılacaktır. İşaretlediğiniz bir cevabı değiştirmek istediğinizde, silme işlemini çok iyi yapmanız gerektiğini unutmayınız.
7. Sınavda uyulacak kurallar bu kitapçığın arka kapağında belirtilmiştir.

1. Bu testte 40 soru vardır.

2. Cevaplarınızı, cevap kâğıdının Türkçe Testi için ayrılan kısmına işaretleyiniz.

1.

3.

2.

4.

Bu soruların telif hakları ÖSYM'ye aittir. Sorular ÖSYM'nin yazılı izni olmaksızın hiçbir kişi, kurum veya kuruluş tarafından kullanılamaz.

5.

6.

ÖSYM

Bu soruların telif hakları ÖSYM'ye aittir. Sorular ÖSYM'nin yazılı izni olmaksızın hiçbir kişi, kurum veya kuruluş tarafından kullanılamaz.

7. Yeşil alanlardan uzakta olmak, stresli bir yaşamı beraberinde getiriyor. Çünkü doğayı yok eden karmaşık düzendeki yapılar, algılarımızı etkiliyor ve zihinsel yorgunluğu yoğun şekilde hissetmemize neden oluyor.

**Bu parçada aşağıdaki ses olaylarından hangisinin örneği yoktur?**

- A) Ünlü düşmesi                      B) Ünsüz yumuşaması  
C) Ünsüz benzeşmesi                D) Ünlü daralması  
E) Ünsüz türemesi

**DOĞRU CEVAP: A**

8.

9.

10.

**ÖSYM**

Bu soruların telif hakları ÖSYM'ye aittir. Sorular ÖSYM'nin yazılı izni olmaksızın hiçbir kişi, kurum veya kuruluş tarafından kullanılamaz.

11.

13.

12.

14.

Ö

S

Y

M

Bu soruların telif hakları ÖSYM'ye aittir. Sorular ÖSYM'nin yazılı izni olmaksızın hiçbir kişi, kurum veya kuruluş tarafından kullanılamaz.

15.

17.

16.

18. (I) Tıpkı kömür gibi petrol de bundan 300-400 milyon yıl önce suda yaşayan bitki ve canlılar sayesinde oluşmuştur. (II) Milyonlarca yıl boyunca bu canlıların kalıntılarının üzeri kum ve alüvyon ile kaplanmıştır. (III) Bu süreç içerisinde, sıcaklık ve basınç bu kalıntıları petrol hâline getirmiştir. (IV) Petrole ulaşabilmek için, kayalar delinerek petrol kuyuları açılır. (V) Deniz tabanının altındaki petrole ulaşmak için ise özel petrol platformları kullanılmak zorundadır. (VI) Buralardan çıkarılan petrol daha sonra yüzeye pompalanır ve akaryakıtlara dönüştürüleceği petrol rafinerilerine taşınır.

**Bu parça iki paragrafa ayrılmak istense, ikinci paragraf numaralanmış cümlelerin hangisiyle başlar?**

- A) II B) III C) IV D) V E) VI

**DOĞRU CEVAP: C**

19.

21.

20.

Ö

S

Y

M

Bu soruların telif hakları ÖSYM'ye aittir. Sorular ÖSYM'nin yazılı izni olmaksızın hiçbir kişi, kurum veya kuruluş tarafından kullanılamaz.



22.

23. Şimdilerde insanların ışık hızında hareket edemeyeceği ve zamanda yolculuk yapamayacağı düşünülüyor. Bir zamanlar insanların uçarak bir yerden bir yere gidemeyeceğine veya bilgisayarların küçülüp cebimize giremeyeceğine de inanılırdı bunların gerçekleşmesi asla mümkün olamazdı.

**Bu parçada asıl anlatılmak istenen aşağıdakilerden hangisidir?**

- A) Teknoloji alanındaki bir gelişme, sonradan ortaya çıkacak ürünler üzerinde etkilidir.
- B) Bilime ilgi duyanlar potansiyellerini doğru kullandıklarında yaratıcı ürünler ortaya koyar.
- C) İnsanların düşünce ve hayal dünyaları, mevcut durumun imkânlarıyla şekillenir.
- D) Bilimde ve teknolojiye ilerleyebilmek için yaratıcı fikirleri sınırlamamak gerekir.
- E) Araştırmacılar, imkânsız şeyler için önce çevrelerindeki ikna etmeye çalışır.

**DOĞRU CEVAP: D**

24.

25.

26.

27.

Ö

S

Y

M

28.

Bu soruların telif hakları ÖSYM'ye aittir. Sorular ÖSYM'nin yazılı izni olmaksızın hiçbir kişi, kurum veya kuruluş tarafından kullanılamaz.

29.

30.

ÖSYM

Bu soruların telif hakları ÖSYM'ye aittir. Sorular ÖSYM'nin yazılı izni olmaksızın hiçbir kişi, kurum veya kuruluş tarafından kullanılamaz.

31.

33.

32.

34. Söylenti, ağızdan ağıza resmî olmayan bir şekilde yayılan ve doğrulanmayan bilgidir. Günümüzde telefon, e-posta ve sosyal medya aracılığıyla daha hızlı yayılmaktadır. Kitleleri ilgilendiren bir mesele hakkında insanlar kesin bilgiye sahip değilse söylentilerin büyümesi kaçınılmazdır. İnsanlar bir söylentiyi iletirken kendi çıkarlarına uygun bir bakış açısı kullandıklarından ileti, değişime uğrar. Söylentiye ortadan kaldırıp yerine bilgiyi koymanın en etkili yolu ise gerçeklerin güvenilir bir kaynaktan ikna edici biçimde yayımlanmasıdır.

**Bu parçada söylentiyle ilgili aşağıdakilerden hangisine değinilmemiştir?**

- A) Belirsizlik ortamında çoğalma eğilimi gösterdiğine
- B) Toplumda bir denetim aracı olarak kullanıldığına
- C) Yayılmasında teknolojik araçların rolü bulunduğuna
- D) Nasıl yönetilip kontrol altına alınabileceğine
- E) İçeriğinin kişisel yorumlara bağlı olarak değişebildiğine

**DOĞRU CEVAP: B**

35. - 36. soruları aşağıdaki parçaya göre cevaplayınız.

36.

35.

Ö

Bu soruların telif hakları ÖSYM'ye aittir. Sorular ÖSYM'nin yazılı izni olmaksızın hiçbir kişi, kurum veya kuruluş tarafından kullanılamaz.

37. - 38. soruları aşağıdaki parçaya göre cevaplayınız.

39. - 40. soruları aşağıdaki parçaya göre cevaplayınız.

37.

38.

39.

40.

**ÖSYM**

Bu soruların telif hakları ÖSYM'ye aittir. Sorular ÖSYM'nin yazılı izni olmaksızın hiçbir kişi, kurum veya kuruluş tarafından kullanılamaz.

1. Bu testte sırasıyla, Tarih (1-5), Coğrafya (6-10), Felsefe (11-15), Din Kültürü ve Ahlak Bilgisi (16-20), Din Kültürü ve Ahlak Bilgisi dersini yasal olarak almak zorunda olmayan veya farklı müfredat ile alanlar için Felsefe (21-25) alanlarına ait toplam 25 soru vardır.

2. Cevaplarınızı, cevap kâğıdının Sosyal Bilimler Testi için ayrılan kısmına işaretleyiniz.

1.

4.

2. Kutalmış oğlu Süleyman Şah'ın 1075 yılında fethedip Türkiye Selçuklu Devleti'nin başkenti yaptığı şehir aşağıdakilerden hangisidir?

- A) Bursa B) İznik C) Konya  
D) Erzurum E) Kayseri

**DOĞRU CEVAP: B**

3.

Bu soruların telif hakları ÖSYM'ye aittir. Sorular ÖSYM'nin yazılı izni olmaksızın hiçbir kişi, kurum veya kuruluş tarafından kullanılamaz.

6.

8. Yeryüzünde sıcak ve çok yağışlı yerlerde yoğun ormanların varlığına bağlı olarak bu alanlarda daha az nüfus bulunmaktadır.

**Aşağıdakilerden hangisi bu yerlere örnek gösterilebilir?**

- A) Güneydoğu Asya B) İskandinav Yarımadası  
C) Amazon Havzası D) Kuzey Sibirya  
E) Batı Avrupa

**DOĞRU CEVAP: C**

7.

9.

10.

**ÖSYM**  
Bu soruların telif hakları ÖSYM'ye aittir. Sorular ÖSYM'nin yazılı izni olmaksızın hiçbir kişi, kurum veya kuruluş tarafından kullanılamaz.



11.

12.

ÖSYM

Bu soruların telif hakları ÖSYM'ye aittir. Sorular ÖSYM'nin yazılı izni olmaksızın hiçbir kişi, kurum veya kuruluş tarafından kullanılamaz.

13.

ÖSYM

Bu soruların telif hakları ÖSYM'ye aittir. Sorular ÖSYM'nin yazılı izni olmaksızın hiçbir kişi, kurum veya kuruluş tarafından kullanılamaz.

16 - 20. soruları Din Kültürü ve Ahlak Bilgisi dersini yasal olarak almak zorunda olanlar ve İmam Hatip Okulları öğrencileri/mezunları cevaplayacaktır.

16.

17. Bu dünyada yaptığı her şeyin kaydedildiği ve kıyametin kopmasından sonra hesaba çekileceği düşüncesi, insanın sorumluluk bilincini artırır. Bu sorumluluk düşüncesini sağlamada melekler imanın önemli bir rolü vardır. Nitekim ayet ve hadislerde insanın yapıp ettiklerini kaydetmekle, canını almakla, kabirde insanı sorgulamakla ve kıyamet anını ilan etmekle görevli olduğu bildirilen bazı meleklerden bahsedilir.

**Bu parçada aşağıdaki meleklerden hangisinin görevinden bahsedilmemiştir?**

A) Münker ve Nekir

B) Mikail

C) İsrail

D) Kiramen Kâtibin

E) Azrail

**DOĞRU CEVAP: B**

18.

19.

Bu soruların telif hakları ÖSYM'ye aittir. Sorular ÖSYM'nin yazılı izni olmaksızın hiçbir kişi, kurum veya kuruluş tarafından kullanılamaz.

20.

21 - 25. soruları Din Kültürü ve Ahlak Bilgisi dersini yasal olarak almak zorunda olmayan veya farklı müfredat ile alanlar cevaplayacaktır.

21.

ÖSYM

Bu soruların telif hakları ÖSYM'ye aittir. Sorular ÖSYM'nin yazılı izni olmaksızın hiçbir kişi, kurum veya kuruluş tarafından kullanılamaz.

22.

24.

23.

Ö

ÖSYM

Bu soruların telif hakları ÖSYM'ye aittir. Sorular ÖSYM'nin yazılı izni olmaksızın hiçbir kişi, kurum veya kuruluş tarafından kullanılamaz.

25.

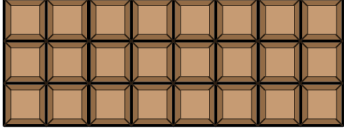
ÖSYM

Bu soruların telif hakları ÖSYM'ye aittir. Sorular ÖSYM'nin yazılı izni olmaksızın hiçbir kişi, kurum veya kuruluş tarafından kullanılamaz.


1. Bu testte 40 soru vardır.

2. Cevaplarınızı, cevap kâğıdının Temel Matematik Testi için ayrılan kısmına işaretleyiniz.

1. 24 eş parçadan oluşan ve her bir parçasının ağırlığı birbirine eşit olan bir çikolata kalıbının görünümü Şekil 1'de verilmiştir. Bahadır, bu çikolata kalıbının bir kısmını koparıp yediğinde kalan kısmın görünümü Şekil 2'de verilmiştir.



Şekil 1



Şekil 2

Buna göre, çikolatanın kalan kısmının ağırlığının ilk ağırlığına oranı aşağıdakilerden hangisi olabilir?

A)  $\frac{7}{12}$

B)  $\frac{7}{8}$

C)  $\frac{5}{8}$

D)  $\frac{5}{6}$

E)  $\frac{3}{4}$

DOĞRU CEVAP: E

2.

3.

Bu soruların telif hakları ÖSYM'ye aittir. Sorular ÖSYM'nin yazılı izni olmaksızın hiçbir kişi, kurum veya kuruluş tarafından kullanılamaz.

5.

7.

6.

8.

**ÖSYM**

Bu soruların telif hakları ÖSYM'ye aittir. Sorular ÖSYM'nin yazılı izni olmaksızın hiçbir kişi, kurum veya kuruluş tarafından kullanılamaz.



9.

11.

10.

12.

Ö

S

SYM

M

Bu soruların telif hakları ÖSYM'ye aittir. Sorular ÖSYM'nin yazılı izni olmaksızın hiçbir kişi, kurum veya kuruluş tarafından kullanılamaz.

13. Elemanları harfler olan 8 elemanlı A kümesinin bazı elemanlarıyla "matematik" ve "otomatik" kelimeleri, elemanları harfler olan 7 elemanlı B kümesinin bazı elemanlarıyla "fizik" ve "müzik" kelimeleri yazılabilmektedir.

Buna göre,  $A \cap B$  kümesinin elemanlarıyla

- I. etik
- II. küme
- III. mazi

kelimelerinden hangileri kesinlikle yazılamaz?

- A) Yalnız I      B) Yalnız II      C) Yalnız III  
D) I ve II      E) I ve III

**DOĞRU CEVAP: A**

14.

15.

16.

Bu soruların telif hakları ÖSYM'ye aittir. Sorular ÖSYM'nin yazılı izni olmaksızın hiçbir kişi, kurum veya kuruluş tarafından kullanılamaz.

17.

18.

Ö

S

Y

M

19.

Bu soruların telif hakları ÖSYM'ye aittir. Sorular ÖSYM'nin yazılı izni olmaksızın hiçbir kişi, kurum veya kuruluş tarafından kullanılamaz.

20.

22. Elinde 20 kilogram çilek bulunan bir manav, çileğin kilogram satış fiyatını " $9,a$  TL" olarak belirlemiş ve çırağına, çileğin etiketine " $1$  kg çilek  $9,a$  TL" yazmasını söylemiştir. Çırak, etikete yazması gerekeni yanlışlıkla " $1$  kg çilek  $a,9$  TL" olarak yazmış ve çileğin tamamını bu etiket fiyatından satmıştır.

Eğer çileğin kilogram satış fiyatı  $9,a$  TL olsaydı, çileğin tamamının satışından elde edilen gelir  $90$  TL daha fazla olacaktı.

Buna göre,  $a$  kaçtır?

- A) 4      B) 5      C) 6      D) 7      E) 8

DOĞRU CEVAP: A

21.

Bu soruların telif hakları ÖSYM'ye aittir. Sorular ÖSYM'nin yazılı izni olmaksızın hiçbir kişi, kurum veya kuruluş tarafından kullanılamaz.

24.

25.

# ÖSYM

Bu soruların telif hakları ÖSYM'ye aittir. Sorular ÖSYM'nin yazılı izni olmaksızın hiçbir kişi, kurum veya kuruluş tarafından kullanılamaz.

26.

27.

# ÖSYM

Bu soruların telif hakları ÖSYM'ye aittir. Sorular ÖSYM'nin yazılı izni olmaksızın hiçbir kişi, kurum veya kuruluş tarafından kullanılamaz.

28.

30.

29.

Ö

S

Y

M

Bu soruların telif hakları ÖSYM'ye aittir. Sorular ÖSYM'nin yazılı izni olmaksızın hiçbir kişi, kurum veya kuruluş tarafından kullanılamaz.

31.

32.

# ÖSYM

33. Bu soruların telif hakları ÖSYM'ye aittir. Sorular ÖSYM'nin yazılı izni olmaksızın hiçbir kişi, kurum veya kuruluş tarafından kullanılamaz.



34.

36.

35.

Ö

S

Y

M

Bu soruların telif hakları ÖSYM'ye aittir. Sorular ÖSYM'nin yazılı izni olmaksızın hiçbir kişi, kurum veya kuruluş tarafından kullanılamaz.

37.

38.

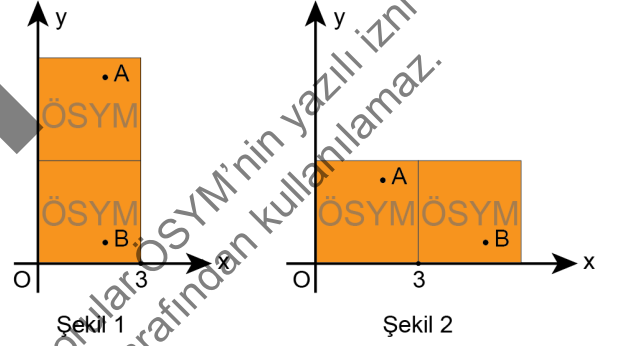
39. Dik koordinat düzleminde  $A(a, b)$  ve  $B(c, d)$  noktaları arasındaki uzaklık

$$|AB| = \sqrt{(c - a)^2 + (d - b)^2}$$

formülüyle hesaplanır.

Üzerinde ÖSYM yazılı olan ve bir kenar uzunluğu 3 birim olan kare şeklinde iki özdeş kâğıttan birinin üzerinde A, diğerinin üzerinde B noktası işaretlenmiştir. Dik koordinat düzleminde bu iki kâğıt aralarında boşluk kalmadan kâğıtların tamamı görünecek biçimde

- Şekil 1'deki gibi üst üste yerleştirildiğinde A ve B noktaları  $x = 2$  doğrusu üzerinde,
- Şekil 2'deki gibi yan yana yerleştirildiğinde ise A ve B noktaları  $2x + 3y = 12$  doğrusu üzerinde bulunmaktadır.



Buna göre, Şekil 2'de A ve B noktaları arasındaki uzaklık kaç birimdir?

- A)  $\sqrt{13}$       B)  $\sqrt{15}$       C)  $2\sqrt{3}$   
D) 3      E) 4

**DOĞRU CEVAP: A**

40.

ÖSYM

Bu soruların telif hakları ÖSYM'ye aittir. Sorular ÖSYM'nin yazılı izni olmaksızın hiçbir kişi, kurum veya kuruluş tarafından kullanılamaz.

1. Bu testte sırasıyla, Fizik (1-7), Kimya (8-14), Biyoloji (15-20) alanlarına ait toplam 20 soru vardır.
2. Cevaplarınızı, cevap kâğıdının Fen Bilimleri Testi için ayrılan kısmına işaretleyiniz.

1.

2.

3.

ÖSYM

Bu soruların telif hakları ÖSYM'ye aittir. Sorular ÖSYM'nin yazılı izni olmaksızın hiçbir kişi, kurum veya kuruluş tarafından kullanılamaz.

4.

5.

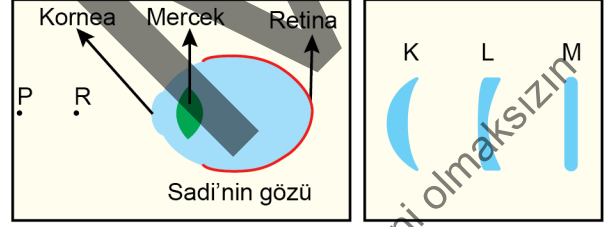
ÖSYM

Bu soruların telif hakları ÖSYM'ye aittir. Sorular ÖSYM'nin yazılı izni olmaksızın hiçbir kişi, kurum veya kuruluş tarafından kullanılamaz.

6.

7. Bir cismi net bir şekilde görebilmemiz için cisimden gelen ışınların, gözümüze girerken korneada ve gözün içinde bulunan mercekten geçerken kırılarak retinada odaklanması gerekmektedir.

Sadi'nin gözünün net bir şekilde odaklayabildiği en yakın nokta Şekil I'deki P noktasıdır. Ancak Sadi, Şekil II'deki K, L ve M gözlük camlarından sadece biri kullanılarak yapılmış olan bir gözlük kullanınca R noktasındaki cismin görüntüsünü de net bir şekilde görebilmektedir.



Şekil I

Şekil II

Buna göre;

- gözlük kullanılmadığında R noktasındaki cisimden gelen ışınların odaklandığı bölge ve
- R noktasındaki cisimden gelen ışınların retinanın üzerinde odaklanabilmesi için Sadi'nin kullanması gereken gözlük camı

aşağıdakilerin hangisinde sırasıyla doğru olarak verilmiştir?

Gözlük kullanılmadığında  
R'den gelen ışınların  
odaklandığı bölge

Gözlük camı

- A) Mercek - Retina arası  
B) Retinanın arkası  
C) Mercek - Retina arası  
D) Retinanın arkası  
E) Kornea - Mercek arası

- K  
K  
L  
L  
M

**DOĞRU CEVAP: B**

8. Bir arařtırmacı, yeni bir ila geliřtirmek iin sırasıyla ařađıdaki alıřmaları yapmıřtır:
- Bazı karbon esaslı bileřikleri tepkimeye sokarak ila aktif maddesini sentezlemiřtir.
  - Sentezlediđi aktif maddenin oluřup oluřmadıđını ve saflıđını eřitli yöntemlerle kontrol etmiřtir.
  - Sentezlediđi aktif maddenin bir canlıda verdiđi tepkileri incelemiřtir.

**Buna göre, arařtırmacının yaptıđı alıřmalar ile bu alıřmaların ilgili olduđu kimya disiplin alan eřleřtirmesi ařađıdakilerden hangisidir?**

- | <u>I</u>           | <u>II</u>       | <u>III</u>      |
|--------------------|-----------------|-----------------|
| A) Anorganik kimya | Fizikokimya     | Analitik kimya  |
| B) Fizikokimya     | Polimer kimyası | Biyokimya       |
| C) Organik kimya   | Analitik kimya  | Biyokimya       |
| D) Polimer kimyası | Analitik kimya  | Fizikokimya     |
| E) Organik kimya   | Polimer kimyası | Anorganik kimya |

**DOĐRU CEVAP: C**

9.

10.

11.

Bu soruların telif hakları ÖSYM'ye aittir. Sorular ÖSYM'nin yazılı izni olmaksızın hiçbir kiři, kurum veya kuruluř tarafından kullanılamaz.

12.

14.

13.

15.

Ö

S

Y

M

Bu soruların telif hakları ÖSYM'ye aittir. Sorular ÖSYM'nin yazılı izni olmaksızın hiçbir kişi, kurum veya kuruluş tarafından kullanılamaz.



16.

18.

17.

Ö

S

Y

M

Bu soruların telif hakları ÖSYM'ye aittir. Sorular ÖSYM'nin yazılı izni olmaksızın hiçbir kişi, kurum veya kuruluş tarafından kullanılamaz.

20.

ÖSYM

Bu soruların telif hakları ÖSYM'ye aittir. Sorular ÖSYM'nin yazılı izni olmaksızın hiçbir kişi, kurum veya kuruluş tarafından kullanılamaz.

## SINAVDA UYULACAK KURALLAR

1. Sınav salonunda saate entegre kamera ile kayıt yapılıyor ise kamera kayıtlarının incelenmesinden sonra sınav kurallarına uymadığı tespit edilen adayların sınavları, ÖSYM Yönetim Kurulunca geçersiz sayılacaktır.
2. **Cep telefonu ile sınava girmek kesinlikle yasaktır.** Adayların sınav binasına; her türlü delici ve kesici alet, ateşli silah, çanta, cüzdan, cep telefonu, saat (kol saati ve her türlü saat), anahtarlık, her türlü araç anahtarı, kablosuz iletişim sağlayan bluetooth ve benzeri cihazlar ile; kulaklık, kolye, küpe, yüzük (**alyans hariç**), bilezik broş ve diğer takılar, her türlü plastik, cam eşya (**şeffaf/numaralı gözlük hariç**), plastik ve metal içerikli eşyalar (**başörtü için kullanılan boncuklu/boncuksuz toplu iğne, para, anahtarlıksız basit anahtar, ulaşım kartı, basit tokalı kemer, basit tel toka ve basit piercing (taşsız, metal top veya sivri uçlu) hariç**) banka/kredi kartı vb. kartlarla, her türlü elektronik/mekanik cihaz ve her türlü müsvedde kâğıt, defter, kalem, silgi, kalemıraş, kitap, ders notu, sözlük, dergi, gazete ve benzeri yayınlar, cetvel, pergel, açılöçer ve bu gibi araçlarla, yiyecek içecek (**şeffaf pet şişe içerisinde bandajı çıkarılmış su hariç**), ilaç ve diğer tüketim maddeleri ile gelmeleri yasaktır. Bu tür eşya, araç-gereçlerle sınava girmiş adaylar mutlaka Salon Tutanağı'na yazılacak, bu adayların sınavı geçersiz sayılacaktır. **Ancak, ÖSYM Başkanlığı tarafından belirlenen Engelli ve Yedek Sınav Evrakı Yönetim Merkezi (YSYM) binalarında sınava girecek olan engelli adayların sınav giriş belgelerinde yazılı olan araç-gereçler, cihazlar vb. yukarıda belirtilen yasakların kapsamı dışında değerlendirilecektir.**
3. Bu sınav için verilen cevaplama süresi **135 dakikadır (2 saat, 15 dakika)**. Sınav başladıktan sonra **ilk 100 dakika** içinde adayın sınavdan çıkmasına kesinlikle izin verilmeyecektir. **Bu süreler dışında, cevaplama sınav bitmeden tamamlarsanız cevap kâğıdınızı ve soru kitapçığınızı salon görevlilerine teslim ederek salonu terk edebilirsiniz. Bildirilen sürele aykırı davranışlardan adayın kendisi sorumludur.**
4. **Sınav salonundan ayrılan aday, her ne sebeple olursa olsun, tekrar sınav salonuna alınmayacaktır.**
5. Sınav süresince görevlilerle konuşmak, görevlilere soru sormak yasaktır. Aynı şekilde görevlilerin de adaylarla yakından ve alçak sesle konuşmaları ayrıca adayların birbirinden kalem, silgi vb. şeyleri istemeleri kesinlikle yasaktır.
6. Sınav sırasında, görevlilerin her türlü uyarısına uymak zorundasınız. Sınavınızın geçeri sayılması, her şeyden önce, sınav kurallarına uymanıza bağlıdır. Kurallara aykırı davranışta bulunanlar ve yapılacak uyarılara uymayanlar Salon Tutanağı'na yazılacak ve sınavları geçersiz sayılacaktır.
7. Sınav sırasında kopya çeken, çekmeye kalkışan, kopya veren, kopya çekilmesine yardım edenler Salon Tutanağı'na yazılacak ve bu adayların sınavları geçersiz sayılacaktır. Adayların test sorularına verdikleri cevapların dağılımları bilgi işlem yöntemleriyle incelenecek, bu incelemelerden elde edilen bulgular bireysel veya toplu olarak kopya çekildiğini gösterirse kopya eylemine katılan adayın/adayların sınavı geçersiz sayılacak ayrıca bu aday/adaylar 2 yıl boyunca ÖSYM tarafından düzenlenen hiçbir sınava başvuru yapamayacak ve sınava giremeyecektir. Sınav görevlileri bir salondaki sınavın, kurallara uygun biçimde yapılmadığını, toplu kopya girişiminde bulunulduğunu raporlarında bildirdiği takdirde, ÖSYM bu salonda sınava giren tüm adayların sınavını geçersiz sayabilir.
8. Cevap kâğıdında doldurmanız gereken alanlar bulunmaktadır. Bu alanları doldurunuz. Cevap kâğıdınızı başkaları tarafından görülmeyecek şekilde tutmanız gerekmektedir. Cevap kâğıdına yazılacak her türlü yazıda ve yapılacak bütün işaretlemelerde kurşun kalem kullanılacaktır. Sınav süresi bittiğinde cevapların, cevap kâğıdına işaretlenmiş olması gerekir. Soru kitapçığına işaretlenen cevaplar geçerli değildir.
9. Soru kitapçığınızı alır almaz kitapçık kapağında bulunan alanları doldurunuz. Size söylendiği zaman sayfaların eksik olup olmadığını, kitapçıkta basım hatalarının bulunup bulunmadığını ve soru kitapçığının her sayfasında basılı bulunan soru kitapçık numarasının, kitapçığın ön kapağında basılı soru kitapçık numarasıyla aynı olup olmadığını kontrol ediniz. Soru kitapçığının sayfası eksik veya basımı hatalıysa değiştirilmesi için salon başkanına başvurunuz. **Size verilen soru kitapçığının numarasını cevap kâğıdınızdaki "Soru Kitapçık Numarası" alanına yazınız ve kodlayınız. Cevap kâğıdınızdaki "Soru kitapçık numaramı doğru kodladım." kutucuğunu işaretleyiniz. Soru kitapçığı üzerinde yer alan Soru Kitapçık Numarasını doğru kodladığınızı beyan eden alanı imzalayınız.**
10. Sınav sonunda soru kitapçıkları toplanacak ve ÖSYM'de incelenecektir. Soru kitapçığının sayfalarını koparmayınız. Soru kitapçığının bir sayfası bile eksik çıkarsa sınavınız geçersiz sayılacaktır.
11. Cevap kâğıdına ve soru kitapçığına yazılması ve işaretlenmesi gereken bilgilerde bir eksiklik ve/veya yanlışlık olması hâlinde sınavınızın değerlendirilmesi mümkün değildir, bu husustaki özen yükümlülüğü ve sorumluluk size aittir.
12. Soruları ve/veya bu sorulara verdiğiniz cevapları ayrı bir kâğıda yazıp bu kâğıdı dışarı çıkarmanız kesinlikle yasaktır.
13. **Sınav salonundan ayrılmadan önce, soru kitapçığınızı, cevap kâğıdınızı ve sınava giriş belgenizi salon görevlilerine eksiksiz olarak teslim ediniz. Bu konudaki sorumluluk size aittir.**
14. Sınav süresi salon görevlilerinin "SINAV BAŞLAMIŞTIR" uyarısıyla başlar, "SINAV BİTMİŞTİR" uyarısıyla sona erer.

*Bu testlerin her hakkı saklıdır. Hangi amaçla olursa olsun, testlerin tamamının veya bir kısmının Merkezimizin yazılı izni olmadan kopya edilmesi, fotoğrafının çekilmesi, herhangi bir yolla çoğaltılması, yayımlanması ya da kullanılması yasaktır. Bu yasağa uymayanlar gerekli cezai sorumluluğu ve doğacak tüm mali külfeti peşinen kabullenmiş sayılır.*